

ОК 01. Выбрать способы решения задач профессиональной деятельности

применительно к различным контекстам

уметь:

– применять математические методы дифференциального и интегрального исчисления для решения профессиональных задач;

закрытые

1. Укажите верную формулу

А	Б	В	Г
$(u \cdot v)' = u' \cdot v'$	$(u \cdot v)' = u' \cdot v + v' \cdot u$	$(u \cdot v)' = u' \cdot v - v' \cdot u$	$(u \cdot v)' = u' \cdot v' + u \cdot v$

2. Укажите верную формулу

А	Б	В	Г
$\left(\frac{u}{v}\right)' = \frac{u'}{v'}$	$\left(\frac{u}{v}\right)' = \frac{u' \cdot v + v' \cdot u}{u' \cdot v - v' \cdot u}$	$\left(\frac{u}{v}\right)' = \frac{u' \cdot v - v' \cdot u}{v^2}$	$\left(\frac{u}{v}\right)' = \frac{v^2}{u' \cdot v - v' \cdot u}$

3. Производная от постоянной функции равна

А	Б	В	Г
1	значению постоянной	∞	0

4. Неопределенным интегралом от функции $f(x)$ называется

А	Б	В	Г
множество всех первообразных	первообразная функции $f(x)$	площадь криволинейной трапеции, ограниченной сверху функцией $f(x)$	функция, производная которой равна функции $f(x)$

5. Определенный интеграл – это:

А	Б	В	Г
число	функция	множество функций	первообразная функции

6. Действие нахождения интеграла от функции называется

А	Б	В	Г
дифференцирование	потенцирование	логарифмирование	интегрирование

7. Уравнение, которое помимо функции содержит её производные:

А	Б	В	Г
дифференциальное уравнение	иррациональное уравнение	тригонометрическое уравнение	интегральное уравнение

8. Решением дифференциального уравнения является:

А	Б	В	Г
производная	число	функция	интеграл

9. Частичной суммой S_n ряда называется сумма его

А	Б	В	Г
бесконечного числа членов	первых n членов	первых десяти членов	произвольного конечного числа членов

10. Выберите правильное утверждение:

А	Б	В	Г
интеграл от суммы функций равен произведению интегралов	интеграл от суммы функций равен сумме интегралов	интеграл от суммы функций равен частному интегралов	интеграл от суммы функций равен разности интегралов

11. Ряд, заданный формулой $\sum_{n=1}^{\infty} \frac{n}{n^2+3}$ называется:

А	Б	В	Г
знакопеременный	степенной	знакопеременный	знакоположительный

12. Ряд, заданный формулой $\sum_{n=1}^{\infty} \frac{(-1)^n \cdot n}{4n^2+10}$ называется:

А	Б	В	Г
знакопеременный	степенной	знакопеременный	знакоположительный

КЛЮЧ:

№ задания	1	2	3	4	5	6	7	8	9	10	11	12
ответ	Б	В	Г	А	А	Г	А	В	Б	Б	Г	А

открытые

- Вычислите предел функции $\lim_{x \rightarrow 1} (x^2 - 5x + 3)$
- Вычислите предел функции $\lim_{x \rightarrow -1} (2x^2 + x + 1)$
- Вычислите предел функции $\lim_{x \rightarrow 1} (3x^2 - 2x - 4)$
- Вычислите предел функции $\lim_{x \rightarrow 2} (2x^2 - 2x + 4)$
- Вычислите предел функции $\lim_{x \rightarrow -2} (3x^2 + x - 3)$
- Вычислите предел функции $\lim_{x \rightarrow \infty} \frac{2x^2 - 5x + 6}{x^2 - 9x + 1}$
- Вычислите предел функции $\lim_{x \rightarrow \infty} \frac{10x^2 + 3x - 1}{2x^2 + 4x - 7}$
- Вычислите предел функции $\lim_{x \rightarrow \infty} \frac{12x^2 + 5x}{x^2 + 3x + 11}$
- Вычислите предел функции $\lim_{x \rightarrow \infty} \frac{3 + 2x - 8x^2}{2x^2 - x + 5}$
- Вычислите предел функции $\lim_{x \rightarrow \infty} \frac{6x^2 + 2x - 6}{2x^2 - 10x + 20}$
- Вычислите предел функции $\lim_{x \rightarrow \infty} \frac{22}{5x + 4}$
- Вычислите предел функции $\lim_{x \rightarrow \infty} \frac{17}{x^3 + 2}$
- Вычислите предел функции $\lim_{x \rightarrow \infty} \frac{97}{5 + x^3}$
- Вычислите предел функции $\lim_{x \rightarrow \infty} \frac{3}{10x - 1}$
- Вычислите предел функции $\lim_{x \rightarrow \infty} \frac{13}{4x^3 - 3}$
- Найдите производную функции $f(x) = 6x^2 - 5$
- Найдите производную функции $f(x) = 10 - 4x^2$
- Найдите производную функции $f(x) = 9x^2 + 21$
- Найдите производную функции $f(x) = 3 - 5x^2$
- Найдите производную функции $f(x) = -3x^2 + 10$
- Вычислите значение производной функции $y = \frac{1}{3}x^3 - \frac{5}{2}x^2$ в точке $x_0 = 2$
- Вычислите значение производной функции $y = \frac{2}{3}x^3 + \frac{3}{2}x^2$ в точке $x_0 = 1$
- Вычислите значение производной функции $y = \frac{4}{3}x^3 - \frac{7}{2}x^2$ в точке $x_0 = 2$
- Вычислите значение производной функции $y = \frac{5}{3}x^3 + \frac{1}{2}x^2$ в точке $x_0 = 1$
- Вычислите значение производной функции $y = \frac{4}{3}x^3 - \frac{1}{2}x^2$ в точке $x_0 = 2$
- Точка движется по закону $S(t) = 2t^3 - 3t^2 + 1$. Найдите скорость точки в момент времени $t_0 = 2$ с.
- Точка движется по закону $S(t) = t^3 + 2t - 1$. Найдите скорость точки в момент времени $t_0 = 2$ с.
- Точка движется по закону $S(t) = 2t^3 - 3t + 10$. Найдите скорость точки в момент времени $t_0 = 2$ с.
- Точка движется по закону $S(t) = 2t^3 - 4t^2 + 5$. Найдите скорость точки в момент времени $t_0 = 2$ с.
- Точка движется по закону $S(t) = t^3 - 2t^2 + 7$. Найдите скорость точки в момент времени $t_0 = 2$ с.
- Вычислите интеграл: $\int_0^1 6x dx$.
- Вычислите интеграл: $\int_0^1 6x^2 dx$.
- Вычислите интеграл: $\int_0^1 10x^4 dx$.
- Вычислите интеграл: $\int_0^1 4x^3 dx$.
- Вычислите интеграл: $\int_0^1 8x dx$.
- Вычислите интеграл: $\int_0^1 9x^2 dx$.
- Вычислите интеграл: $\int_0^1 14x^6 dx$.

ОК 02	Использовать современные средства поиска, анализа и интерпретации информации и информационные технологии для выполнения задач профессиональной деятельности
--------------	--------------------------------------------------------------------------------------------------------------------------------------------------------------------

знать:

– основные понятия и методы математическо-логического синтеза и анализа логических устройств;

закрытые

1. Множество – это ...

А	Б	В	Г
совокупность некоторых объектов, которые имеют некоторый общий признак	любой набор объектов с различными признаками	большое количество чего – либо	свойства различных объектов

2. Операция объединения множеств.

А	Б	В	Г
$A \cap B$	$A \setminus B$	$A \cup B$	\overline{AB}

3. Операция пересечения множеств:

А	Б	В	Г
\overline{AB}	$A \setminus B$	$A \cup B$	$A \cap B$

4. Граф - это...

А	Б	В	Г
множество точек, две из которых обязательно соединяются линиями	множество точек, которые никогда не соединяются линиями	только две точки, которые соединяются линиями	множество точек, которые могут соединяться линиями

5. Если две вершины соединены ребром, то они называются...

А	Б	В	Г
четные	изолированные	смежные	инцидентные

6. Граф называется орграфом, если...

А	Б	В	Г
все его ребра кратны	все его ребра ориентированы	все его вершины соединены между собой	все его вершины соединены друг с другом

7. Множество В является подмножеством множества А если:

А	Б	В	Г
каждый элемент множества А является также элементом множества В	во множестве В есть такие же элементы, как и во множестве А	каждый элемент множества В является также элементом множества А	множества В и множества А состоят из одинаковых элементов

8. Даны множества $A = \{c; d\}$ и $B = \{1; 2\}$. Тогда декартовым (прямым) произведением $A \times B$ является...

А	Б	В	Г
$\{(c, 1), (c, 2), (d, 1), (d, 2)\}$	$\{(1, c), (1, d), (2, c), (2, d)\}$	$\{(1,2, c), (1,2, d)\}$	$\{c, d, 1,2\}$

9. Математический символ \emptyset обозначает

А	Б	В	Г
нулевое множество	бесконечное множество	счетное множество	пустое множество

10. Даны множества $A = \{1; 2\}$ и $B = \{c; d\}$. Тогда декартовым (прямым) произведением $A \times B$ является...

А	Б	В	Г
$\{(c, 1), (c, 2), (d, 1), (d, 2)\}$	$\{(1, c), (1, d), (2, c), (2, d)\}$	$\{(1,2, c), (1,2, d)\}$	$\{c, d, 1,2\}$

11 Если два ребра соединены общей вершиной, то они называются...

А	Б	В	Г
изоморфными	висячими	инцидентными	смежными

12. Точки графа называются...

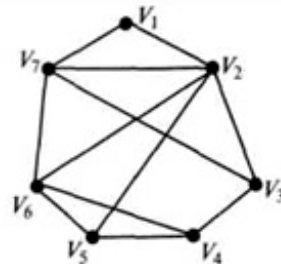
А	Б	В	Г
ребрами графа	пунктами графа	вершинами графа	узлами графа

КЛЮЧ:

№ задания	1	2	3	4	5	6	7	8	9	10	11	12
ответ	А	В	Г	Г	В	Б	В	А	Г	Б	Г	В

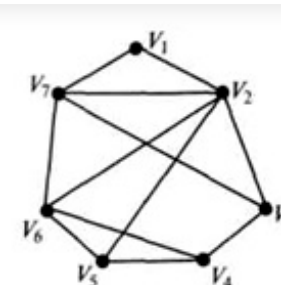
открытые

- Пусть $A = \{-1; 0; 1; 2; 3\}$, $B = \{1; 2; 3; 4; 5\}$. Тогда $A \cap B$ равно (ответ указать без пробелов и запятых).
- Пусть $A = \{1; 2; 3; 4; 5; 6; 7\}$, $B = \{-1; 0; 1; 2; 3\}$. Тогда $A \cap B$ равно (ответ указать без пробелов и запятых).
- Пусть $A = \{0; 1; 2; 3; 4; 5\}$, $B = \{-2; -1; 0; 1; 2\}$. Тогда $A \cap B$ равно (ответ указать без пробелов и запятых).
- Пусть $A = \{-2; -1; 0; 1; 2; 3\}$, $B = \{1; 2; 3; 4; 5\}$. Тогда $A \cap B$ равно (ответ указать без пробелов и запятых).
- Пусть $A = \{-3; -2; -1; 0; 1; 2\}$, $B = \{0; 1; 2; 3; 4; 5\}$. Тогда $A \cap B$ равно (ответ указать без пробелов и запятых).
- Пусть $A = \{1; 2; 3\}$, $B = \{2; 3; 4\}$. Тогда $A \cup B$ равно (ответ указать без пробелов и запятых).
- Пусть $A = \{1; 2; 3\}$, $B = \{0; 1; 2\}$. Тогда $A \cup B$ равно (ответ указать без пробелов и запятых).
- Пусть $A = \{0; 1; 2\}$, $B = \{1; 2; 3\}$. Тогда $A \cup B$ равно (ответ указать без пробелов и запятых).
- Пусть $A = \{2; 3; 4\}$, $B = \{3; 4; 5\}$. Тогда $A \cup B$ равно (ответ указать без пробелов и запятых).
- Пусть $A = \{3; 4; 5\}$, $B = \{4; 5; 6\}$. Тогда $A \cup B$ равно (ответ указать без пробелов и запятых).
- Пусть $A = \{1; 2; 3\}$, $B = \{2; 3; 4\}$. Тогда $A \setminus B$ равно.
- Пусть $A = \{1; 2; 3\}$, $B = \{0; 1; 2\}$. Тогда $A \setminus B$ равно.
- Пусть $A = \{0; 1; 2\}$, $B = \{1; 2; 3\}$. Тогда $A \setminus B$ равно.
- Пусть $A = \{2; 3; 4\}$, $B = \{3; 4; 5\}$. Тогда $A \setminus B$ равно.
- Пусть $A = \{3; 4; 5\}$, $B = \{4; 5; 6\}$. Тогда $A \setminus B$ равно.
- _____ - это совокупность точек плоскости и отрезков их соединяющих.
- Граф называется _____, если указано направление его дуг.
- Граф называется _____, если направление его дуг не указано.
- Дуга графа называется _____, если ее начало и конец совпадают.
- Две вершины графа называются _____, если существует дуга, их соединяющая.



21. Количество ребер инцидентных вершине V_4 в графе

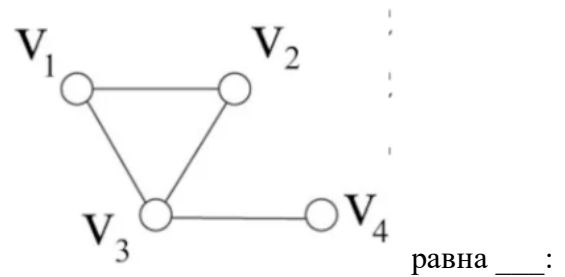
равна ___:



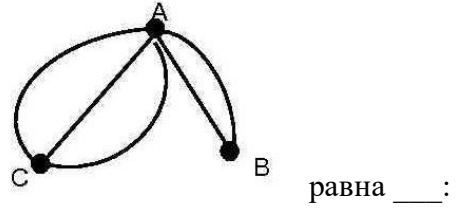
22. Количество ребер инцидентных вершине V_5 в графе

равна ___:

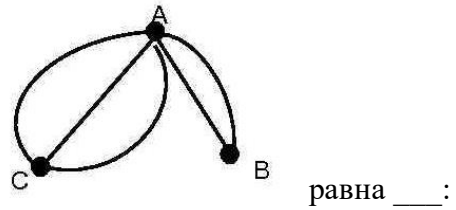
23. Количество ребер инцидентных вершине V_3 в графе



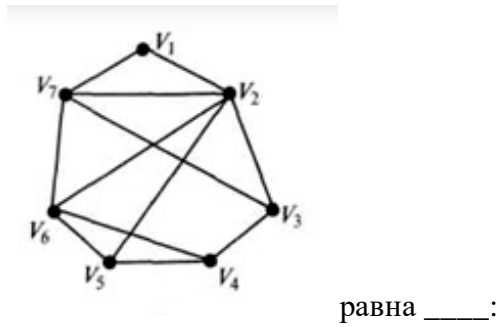
24. Количество ребер инцидентных вершине C в графе



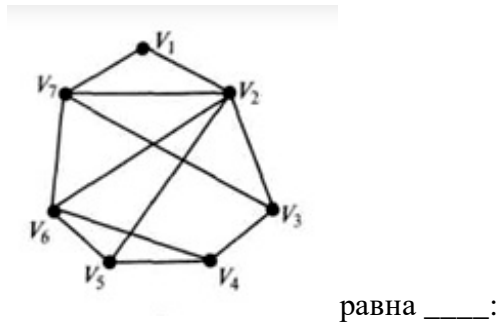
25. Количество ребер инцидентных вершине A в графе



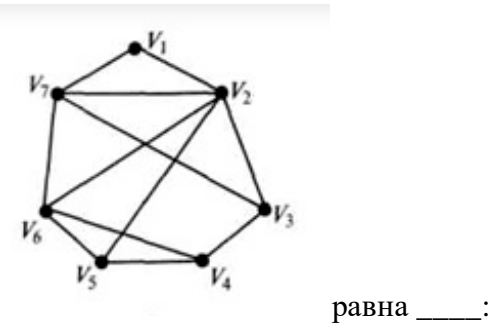
26. Степень вершины V_6 в графе



27. Степень вершины V_2 в графе



28. Степень вершины V_7 в графе



ПК 3.1	Организовывать работу персонала по обработке перевозочных документов и осуществлению расчетов за услуги, предоставляемые транспортными организациями
---------------	-------------------------------------------------------------------------------------------------------------------------------------------------------------

уметь:

– применять основные положения теории вероятностей и математической статистики в профессиональной деятельности;

закрытые

1. Событие, которое обязательно произойдет, называется ...

А	Б	В	Г
невозможным	достоверным	случайным	достоверным и случайным

2. Событие называется ..., если оно не может произойти в результате данного испытания.

А	Б	В	Г
случайным	достоверным	невозможным	достоверным и случайным

3. Вероятность достоверного события равна:

А	Б	В	Г
1	0,1	∞	0

4. Вероятность невозможного события равна:

А	Б	В	Г
1	0,1	∞	0

5. Если два события могут произойти одновременно, то они называются

А	Б	В	Г
совместными	несовместными	зависимыми	независимыми

6. Выбрать правильный ответ: $P(A + \bar{A}) = ?$

А	Б	В	Г
0	$1 - P(A)$	1	$P(A) + P(B) - P(A \cdot B)$

7. Выбрать правильный ответ: $P(A \cdot \bar{A}) = ?$

А	Б	В	Г
0	$1 - P(A)$	1	$P(A) + P(B) - P(A \cdot B)$

8. Вероятность суммы двух несовместных событий A и B вычисляется по формуле:

А	Б	В	Г
$P(A + B) = P(A) + P(B) + P(A \cdot B)$	$P(A + B) = P(A) - P(B) + P(A \cdot B)$	$P(A + B) = P(A) - P(B)$	$P(A + B) = P(A) + P(B)$

9. Совокупность несовместных событий таких, что в результате опыта должно произойти хотя бы одно из них называются

А	Б	В	Г
неполной системой событий	полной системой событий	целостной системой событий	не целостной системой событий

10. Отношение числа испытаний, в которых событие появилось, к общему числу фактически произведенных испытаний называется

А	Б	В	Г
классической вероятностью	относительной частотой	физической частотой	геометрической вероятностью

11. В каких пределах заключена вероятность появления случайного события?

А	Б	В	Г
любое положительное число	любое неотрицательное число	любое число от -1 до 1	любое число от 0 до 1

12. Если два события не могут произойти одновременно, то они называются:

А	Б	В	Г
совместными	несовместными	зависимыми	независимыми

КЛЮЧ:

№ задания	1	2	3	4	5	6	7	8	9	10	11	12
ответ	Б	В	А	Г	А	В	А	Г	Б	А	Г	Б

вероятность того, что в течение года в СК обратится только второй клиент, если обращения клиентов - события независимые.

20. Вероятность того, что в страховую компанию в течение года обратится с иском о возмещении ущерба первый клиент, равна 0,4. Для второго клиента вероятность такого обращения равна 0,6. Найти вероятность того, что в течение года в СК обратится только второй клиент, если обращения клиентов - события независимые.

21. Чему равно математическое ожидание случайной величины $Y = 4 \cdot X + 2$, если математическое ожидание X равно 3?

22. Чему равно математическое ожидание случайной величины $Y = 3 \cdot X + 2$, если математическое ожидание X равно 3?

23. Чему равно математическое ожидание случайной величины $Y = 4 \cdot X + 2$, если математическое ожидание X равно 2?

24. Чему равно математическое ожидание случайной величины $Y = 3 \cdot X + 2$, если математическое ожидание X равно 2?

25. Чему равно математическое ожидание случайной величины $Y = 5 \cdot X + 1$, если математическое ожидание X равно 2?

26. Дан закон распределения вероятностей дискретной случайной величины X :

X	0	1	2	3
P	0,2	0,3	0,4	a

Тогда значение a равно...

27. Дан закон распределения вероятностей дискретной случайной величины X :

X	-1	0	1	4
P	0,1	a	0,2	0,6

Тогда значение a равно...

28. Дан закон распределения вероятностей дискретной случайной величины X :

X	-2	2	3	4
P	a	0,3	0,2	0,1

Тогда значение a равно...

29. Дан закон распределения вероятностей дискретной случайной величины X :

X	1	2	4	5
P	0,2	0,3	a	0,2

Тогда значение a равно...

30. Дан закон распределения вероятностей дискретной случайной величины X :

X	-3	-2	1	3
P	0,2	0,1	0,4	a

Тогда значение a равно...

31. Дискретная случайная величина X задана следующим распределением вероятностей:

X	-1	0	2
P	0,3	0,3	0,4

Тогда ее математическое ожидание равно ...

32. Дискретная случайная величина X задана следующим распределением вероятностей:

X	-2	0	1
P	0,1	0,3	0,6

Тогда ее математическое ожидание равно ...

33. Дискретная случайная величина X задана следующим распределением вероятностей:

X	-2	0	1
P	0,1	0,6	0,3

Тогда ее математическое ожидание равно ...

34. Дискретная случайная величина X задана следующим распределением вероятностей:

X	0	1	2
P	0,6	0,1	0,3

Тогда ее математическое ожидание равно ...

35. Дискретная случайная величина X задана следующим распределением вероятностей:

